

Strana 2 – 3


Meno: \_\_\_\_\_

Téma

1. Pozorne si pozri obrázok. Potom zatvor Rebrík a odpovedz ne otázky.

10

- Koľko ľudí na obrázku má v ruke hudobný nástroj? \_\_\_\_\_
- Akej farby je futbalová lopta? \_\_\_\_\_
- Koľko je na obrázku:  
psov \_\_\_\_\_  
mačiek \_\_\_\_\_  
vtákov \_\_\_\_\_  
veveričiek \_\_\_\_\_
- Má niekto na obrázku bodkované ponožky? \_\_\_\_\_
- Ktorým smerom ide chlapec na kolobežke? \_\_\_\_\_
- O čo sa hádajú dvaja chlapci? \_\_\_\_\_
- Akej farby má topánky chlapec na vozíku? \_\_\_\_\_




Písmenková polievka

5

2. V príbehu sú použité slová, ktoré majú rovnaký význam ako tie nasledujúce.

Napíš ich.



napr. ide oproti – protichodný

bratia a sestry - \_\_\_\_\_

fučať - \_\_\_\_\_

súhlasila - \_\_\_\_\_

veľmi ďaleko - \_\_\_\_\_

hlúposti - \_\_\_\_\_



6

3. V tom istom texte sú aj nasledujúce slovné spojenia. Napíš ich význam.

cieľ bol v nedohľadne

\_\_\_\_\_

\_\_\_\_\_

\_\_\_\_\_

idú dušu vypustiť - \_\_\_\_\_


\_\_\_\_\_

\_\_\_\_\_

hrýzlo ho svedomie - \_\_\_\_\_

\_\_\_\_\_

\_\_\_\_\_



Spoznávame Slovensko

7

**4. Podľa textu Hrad Stará Ľubovňa odpovedz na otázky.**

Kde boli na prázdninách Klárka, Martin a ich rodičia?

\_\_\_\_\_

Aká rieka tečie cez Starú Ľubovňu? \_\_\_\_\_

Ako rýchlo vie lietať sokol sťahovavý? \_\_\_\_\_

S čím sa odfotila Klárka? \_\_\_\_\_

Kto vyhlásil sviatok Mena Panny Márie? \_\_\_\_\_

V ktorých priestoroch hradu sa zdržiaval Móric Beňovský?

\_\_\_\_\_

Čo je skanzen? \_\_\_\_\_

Vypátrali sme pre teba

6

**5. Tvoje leto. Dokonči tak, aby to bola pravda.**

miesto, kde sa mi páčilo \_\_\_\_\_

mená ľudí, ktorých som stretol \_\_\_\_\_

\_\_\_\_\_

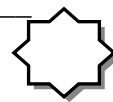

chutné prázdninové jedlo \_\_\_\_\_

tohtoročná obľúbená zmrzlina \_\_\_\_\_

koľkokrát som zmokol \_\_\_\_\_


potešilo ma \_\_\_\_\_

\_\_\_\_\_



5

6. Nakresli živočíchy, ktoré si videl počas prázdnin.



Ako sa ti dnes darilo? Vyfarbi si Reba.



39 – 30


29 – 20



19 – 10



9 a menej



Vypracovala: Mgr. Janka Osvaldíková