

# Čítanie s Rebom a Rikou

www.rebrik.sk

Meno: \_\_\_\_\_

Strana 2 – 3

Téma

7 1. Kam by si počas prázdnin chcel cestovať týmito dopravnými prostriedkami?

dvojkolesový vozík \_\_\_\_\_

auto \_\_\_\_\_




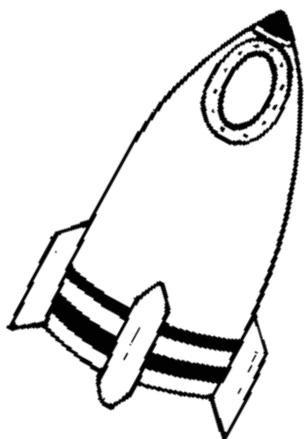
vlak \_\_\_\_\_

lod' \_\_\_\_\_

vzducholod' \_\_\_\_\_

lietadlo \_\_\_\_\_

raketa \_\_\_\_\_



Písmenková polievka

2. V príbehu sú tieto slovné spojenia a vety. Čo to znamená, keď sa povie:

6

usmievať sa popod fúzy - \_\_\_\_\_

\_\_\_\_\_

nebyť vo svojej koži - \_\_\_\_\_

\_\_\_\_\_

zaveliť na odchod do postele - \_\_\_\_\_

\_\_\_\_\_

hneď zalomiť - \_\_\_\_\_

\_\_\_\_\_

zaspať raz-dva - \_\_\_\_\_

\_\_\_\_\_

Obloha bola ako nočný plášť so zlatými gombíkmi. - \_\_\_\_\_

\_\_\_\_\_

Písmenková polievka

6

3. K čomu patria tieto číselné údaje z Túlavých tenisiek?.

123 \_\_\_\_\_

53,7 \_\_\_\_\_

1 626 \_\_\_\_\_

3 \_\_\_\_\_

22 \_\_\_\_\_

403 \_\_\_\_\_

Nakuknime pod pokrievku

6

4. Ktoré stavebné mechanizmy sú ukryté v týchto „slovách“?

vrabčíná lývec - \_\_\_\_\_

ragbý pesová - \_\_\_\_\_

fér mánzaze - \_\_\_\_\_

molitananu káblodý - \_\_\_\_\_

zuboldér - \_\_\_\_\_

regadr - \_\_\_\_\_



Odvážni Emkuroni

5

5. Emkuroni majú svoj Prázdnolet. Vymysli a nakresli svoj prázdninový dopravný prostriedok pre teba a tvojich kamarátov.



5

6. Na konci školského roka sa patrí poďakovať aj pani učiteľke. Skús to urobiť originálne – vlastnou krátkou básničkou.

Moje veršované poďakovanie pani učiteľke:

---

---

---

---

---


---

---

---



Ako sa ti dnes darilo? Vyfarbi si Reba



35 – 27




26 – 18



17 – 9

8 a menej



Vypracovala: Mgr. Jana Osvaldíková